

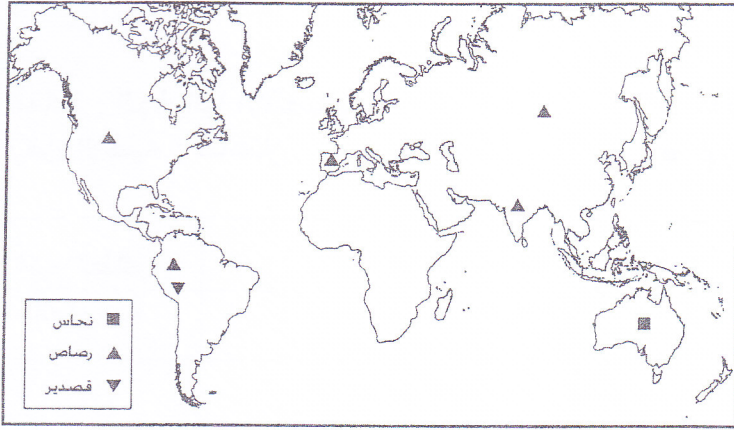
(١)

امتحان مادة الجغرافيا الاقتصادية للصف الحادي عشر
للعام الدراسي ١٤٣٥/١٤٣٦ هـ - ٢٠١٤/٢٠١٥ م
الدور الأول - الفصل الدراسي الأول

أجب عن جميع الأسئلة الآتية

-السؤال الأول: ضع دائرة حول الحرف الدال على الإجابة الصحيحة من بين البدائل المعطاة:

- ١- الصناعات الأكثر تلويناً للغلاف الجوي في الوطن العربي:
أ- الغذائية. ب- الورقية. ج- الكيميائية. د- الحديدية.
- ٢- المنطقة الأنسب لزراعة العنب في سلطنة عمان:
أ- سهل جريبب. ب- واحة هيماء. ج- الجبل الأخضر. د- سهل الباطنة.
- ٣- الدولة التي يوجد بها معدن النحاس حسب الخريطة المجاورة:

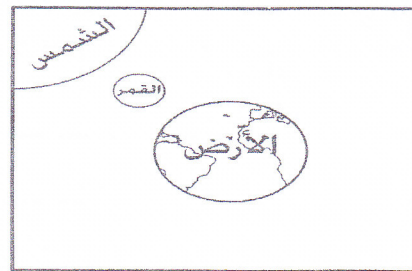


- أ- أستراليا. ب- الهند.
ج- جامايكا. د- الفلبين.

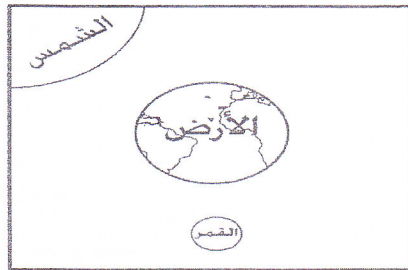
٤- الشكل الذي يشير إلى الوضعية الأفضل لإنتاج الطاقة من قوة المد والجزر:



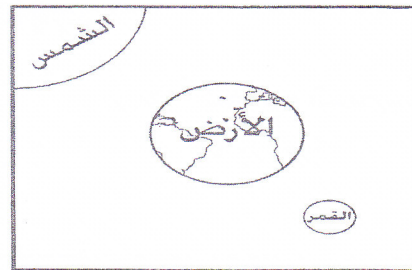
(ب)



(أ)



(د)



(ج)

٥- تتميز الأسمدة العضوية عن الأسمدة الكيميائية بأنها:

- أ- ترفع من خصوبة التربة.
ب- مناسبة للنمو الثمري.
ج- لا تؤثر سلباً على البيئة.
د- تزيد الإنتاج الزراعي.

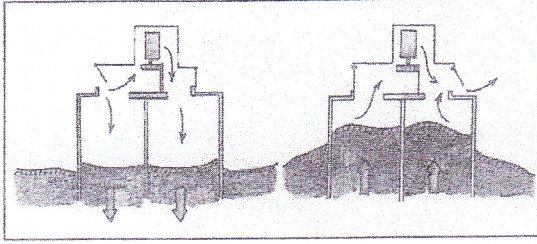
يتبع/٢

(٢)


تابع امتحان مادة الجغرافيا الاقتصادية للصف الحادي عشر
للعام الدراسي ١٤٣٥/١٤٣٦ هـ - ٢٠١٤/٢٠١٥ م
الدور الأول - الفصل الدراسي الأول

- تابع السؤال الأول:


٦- الشكل الذي يشير إلى مصدر الطاقة المستقبلي الأنسب لمحافظة البريمي:




(ب)



(أ)




(د)



(ج)

٧- نوع الزراعة التي يدل عليها الشكل المقابل:



ب- مختاطة.

أ- كثيفة.

د- حيوية.

ج- محمية.

٨- الرمز الذي يشير إلى الترتيب الصحيح لطبقات التربة (من الأعلى إلى الأسفل) في الري تحت السطحي:

طبقة صلبة
طبقة ذات خاصية شعيرية
طبقة مسامية

(ب)

طبقة ذات خاصية شعيرية
طبقة مسامية
طبقة صلبة

(أ)

طبقة صلبة
طبقة مسامية
طبقة ذات خاصية شعيرية

(د)

طبقة مسامية
طبقة ذات خاصية شعيرية
طبقة صلبة

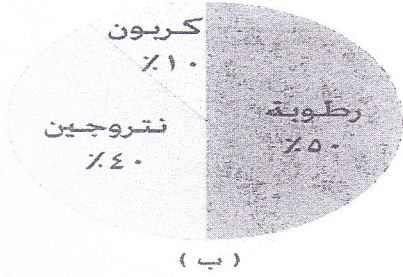
(ج)

(٣)

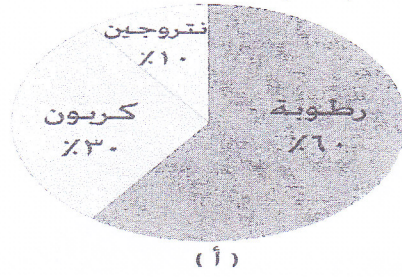
امتحان مادة الجغرافيا الاقتصادية للصف الحادي عشر
للعام الدراسي ١٤٣٥/١٤٣٦ هـ - ٢٠١٤/٢٠١٥ م
الدور الأول - الفصل الدراسي الأول

- تابع السؤال الأول:

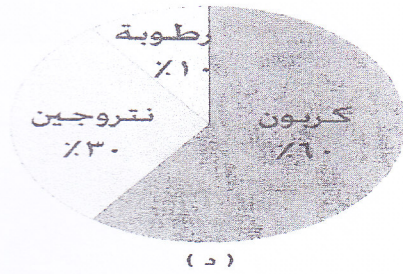
٩- الشكل الذي يمثل خام الفحم ذو القيمة الاقتصادية الأكبر:



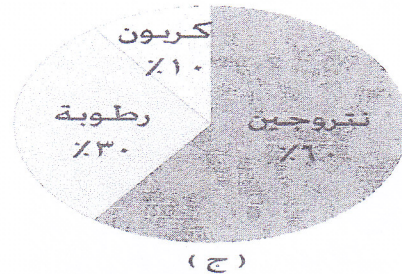
(ب)



(أ)



(د)



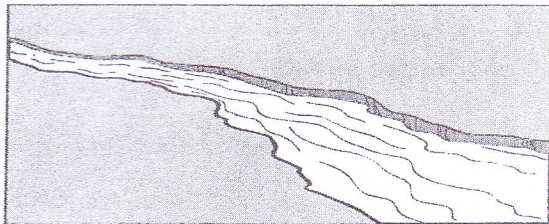
(ج)

١٠- الترتيب الصحيح للموارد التالية حسب فترة تجدها من الأطول إلى الأقصر:

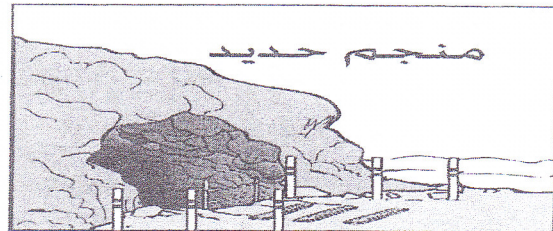
- المياه الجوفية - أشجار الغابات - التربة المنجرفة.
- التربة المنجرفة - أشجار الغابات - المياه الجوفية.
- أشجار الغابات - المياه الجوفية - التربة المنجرفة.
- التربة المنجرفة - المياه الجوفية - أشجار الغابات.

١١- قام مستثمر باستخراج مليون طن من خام الحديد من منجم ما. فإن معدن الحديد المتوقع استخراجه من الخام بالطن:
أ- ٨٠٠ ألف . ب- ٧٠٠ ألف . ج- ٦٠٠ ألف . د- ٥٠٠ ألف .


١٢- الشكل الذي يدل على أفضل الأماكن لتوطن صناعة الحديد والصلب:



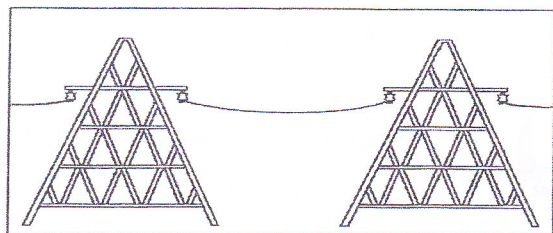
(ب)



(أ)



(د)



(ج)

يتبع/٤

(٤)

امتحان مادة الجغرافيا الاقتصادية للصف الحادي عشر
للعام الدراسي ١٤٣٥/١٤٣٦ هـ - ٢٠١٤/٢٠١٥ م
الدور الأول - الفصل الدراسي الأول

-السؤال الثاني: أجب عن الأسئلة الآتية:

أ- اذكر اثنين لكل من:

أ- شبكات التسويق المرئية.

.....

.....

ب- أهمية الصناعة في تطوير الزراعة.

.....

.....

.....

أ- اكتب نوع البديل من بين القوسين (تشريعات بيئية - تربية بيئية - إدارة سليمة للبيئة) مقابل كل مجال من مجالات حماية البيئة والتلوث الآتية:

أ- الردع والعقوبة لكل من يعتدي على البيئة. (.....)

ب- إدخال الاعتبارات البيئية في التخطيط الاقتصادي. (.....)

ج- التوعية البيئية. (.....)

أ- ١- أمامك جدول يوضح قيام أحد المزارعين باستثمار مبلغ وقدره (١٠٠٠) ريال عماني في مشروع زراعة محصول الثوم. ادرسه جيداً ثم أجب عن الأسئلة التي تليه.

التكلفة (ريال عماني)	البند
٤٠٠	استصلاح وتسميد ورش الأرض الزراعية.
٢٠٠	النقل والماء والكهرباء
٢٠٠	رواتب العمال
١٠٠	تكاليف أخرى
١٥٠٠	بيع المحصول

أ- عدد اثنين من الأغراض التي استفاد فيها المزارع من رأس المال.

.....

.....

ب- يعتبر نمط هذه الزراعة: تجاري معاشي (ضع علامة ✓).

فسر ذلك:

.....

.....

.....

يتبع /

(٥)

امتحان مادة الجغرافيا الاقتصادية للصف الحادي عشر
للعام الدراسي ١٤٣٥/١٤٣٦ هـ - ٢٠١٤/٢٠١٥ م
الدور الأول - الفصل الدراسي الأول

-تابع السؤال الثاني:

ب-٢- من خلال الجدول المجاور الذي يمثل نقل خام الحديد إلى المصنع أجب عن الأسئلة الآتية:

وسيلة نقل خام الحديد إلى المصنع	حجم النقل (طن)	تكلفة النقل (ريال عماني)
الطائرة	٣٠	١٠٠٠
القطار	١٠٠٠	٥٠
الشاحنة	١٠	١٠٠
السفينة	٢٠٠٠	٣٠

- أ- اذكر مقوماً طبيعياً وآخر بشرياً للصناعة.
- طبيعي (.....).
- بشري (.....).

ب- ما أفضل وسيلة نقل يتم من خلالها نقل خام الحديد إلى المصنع؟.....

ج - فيم يتمثل رأس المال الثابت المذكور في الجدول؟.....

ج- قارن في الجدول التالي بين الأثر الإيجابي والأثر السلبي لكل من الإجراءات الآتية:

الإجراء	الأثر السلبي	الأثر الإيجابي
إنشاء المصانع على سواحل البحار		
استخدام الماء في المصانع القريبة من الشاطئ		

-السؤال الثالث: أجب عن الأسئلة الآتية:

أ- أمامك ثلاثة جداول توضح بيانات مناطق مختلفة الظروف لاستغلال طاقة الرياح . ادرسها جيداً وأجب من خلالها عن الأسئلة التالية:

سرعة الرياح ٢٠-٣٥ كم / ساعة
فترة هبوب الرياح ٥ شهور
مساحة الموقع ٢٠٠٠ كم مربع

(ج)

سرعة الرياح ١٠-٢٠ كم / ساعة
فترة هبوب الرياح ٧ شهور
مساحة الموقع ٢٠٠٠ كم مربع

(ب)

سرعة الرياح ٥-١٠ كم / ساعة
فترة هبوب الرياح ٣ شهور
مساحة الموقع ٢٠٠٠ كم مربع

(أ)

١- استخراج مشكلتين تواجه استغلال الرياح في توليد طاقة الكهرباء.

أ- ب-

٢- اكتب رمز الجدول الذي يمثل المنطقة ذات الجدوى الاقتصادية الأكبر لاستغلال طاقة الرياح ورمز الجدول الذي يمثل المنطقة الأقل جدوى اقتصادية .

- رمز المنطقة الأكبر جدوى (.....) - رمز المنطقة الأقل جدوى (.....).

يتبع / ٦

(٦)

امتحان مادة الجغرافيا الاقتصادية للصف الحادي عشر
للعام الدراسي ١٤٣٥/١٤٣٦ هـ - ٢٠١٤/٢٠١٥ م
الدور الأول - الفصل الدراسي الأول

- تابع السؤال الثالث:

ب-١- صنف السليبات الواردة بين القوسين حسب مصدر الطاقة المذكور في الجدول التالي :
(تلويث البيئة - تدمير الحياة البرية خلف السدود - تدمير الرياح للسدود - بحاجة إلى مساحة واسعة)


نوع الطاقة	السليبات
الطاقة الشمسية	
المد والجزر	
الفحم	
الطاقة المائية	

ب-٢- برّر صرف سلطنة عمان النظر عن بناء محطات الطاقة النووية.


.....
.....

ج-١- اكتب البديل المناسب لما يلي :

- أ- استخدام معدن الحديد في صناعة الأنابيب
ب- استخدام المبيدات لمكافحة الآفات الزراعية
ج-٢- رتب الصور التالية الخاصة بمراحل تطور الزراعة والحصول على الغذاء من الأقدم للأحدث بكتابة الأرقام (٤-٢) أسفل كل صورة:



(.....)



(.....)



(.....)



(١)

ج-٣- أمامك صورة توضح إحدى ممارسات الإنسان اليومية في الزراعة . ادرسها جيدا ثم أجب عن الأسئلة التي تليها:
أ- مانوع الممارسة التي تشير إليها الصورة؟

.....

ب- اذكر اثنين من فوائدها.

.....

.....

.....

.....

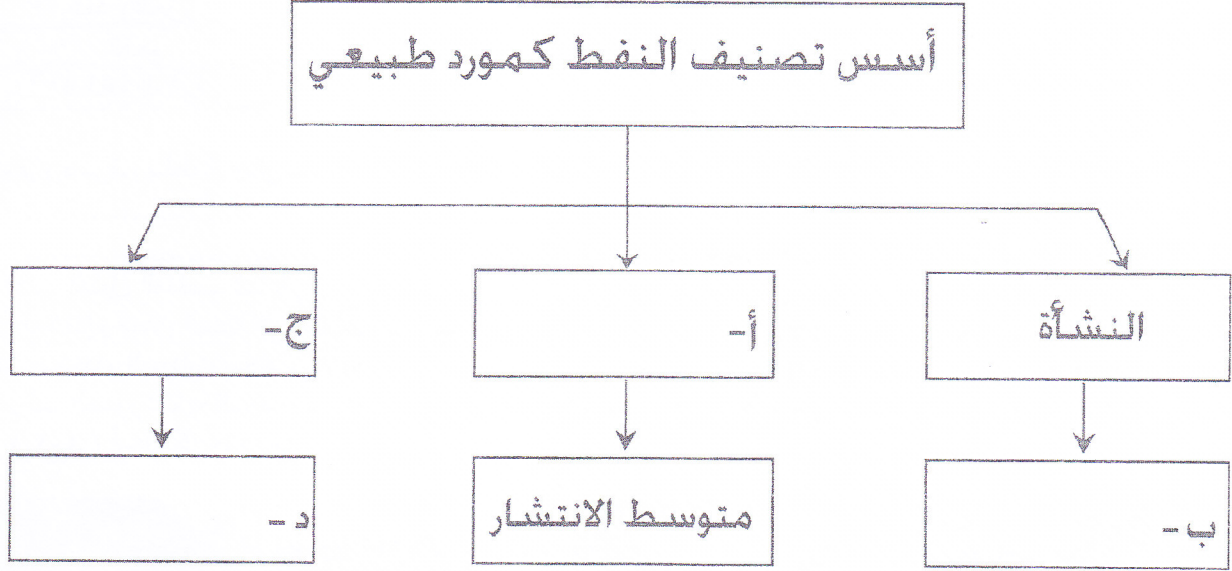


يتبع / ٧

(٧)
امتحان مادة الجغرافيا الاقتصادية للصف الحادي عشر
للعام الدراسي ١٤٣٥/١٤٣٦ هـ - ٢٠١٤/٢٠١٥ م
الدور الأول - الفصل الدراسي الأول

-السؤال الرابع: أجب عن الأسئلة الآتية:-

أ- ١- أكمل المخطط التالي:



٢ - ١ - أقرأ الفقرة التالية وأجب من خلالها عما يليها من أسئلة:
"قام أحد الطلاب باستخراج مقطع صغير من تربة الوادي القريب من منزله، وعند دراسته له وجد أن التربة ذات لون أحمر، وتتميز بأنها تربة طينية رملية، كما يوجد بها نسبة من كلوريد الكالسيوم والصوديوم".
أ- ما الدليل على أن التربة التي درسها الطالب ليست تربة محلية؟

.....
.....

ب - اذكر اثنين لكل من:
١- الخصائص الطبيعية لهذه التربة.

.....
٢- الخصائص الكيميائية لهذه التربة.
.....

ج- علل تعدد هذه التربة من أفضل التربات مناسبة للزراعة.

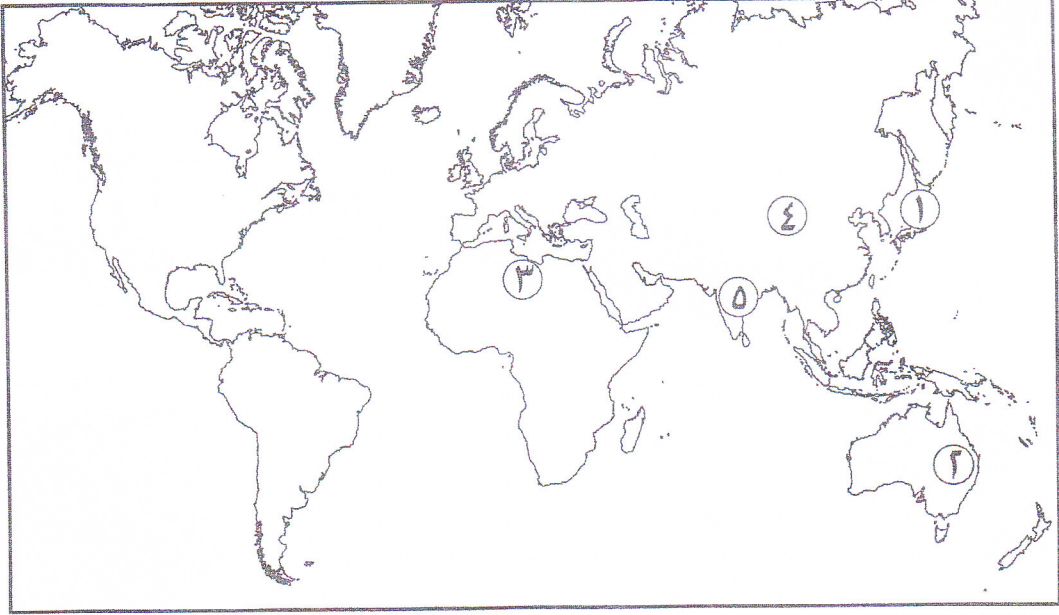
.....
.....
.....

(٨)

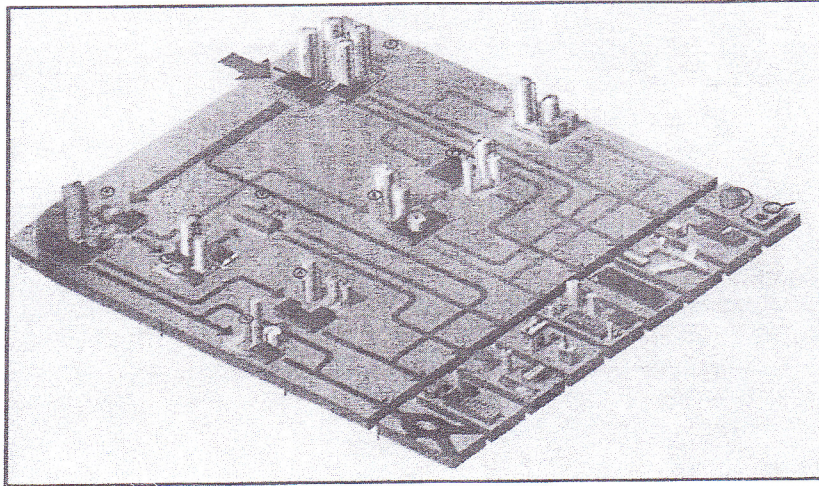
امتحان مادة الجغرافيا الاقتصادية للصف الحادي عشر
للعام الدراسي ١٤٣٥/١٤٣٦ هـ - ٢٠١٤/٢٠١٥ م
الدور الأول - الفصل الدراسي الأول

- تابع السؤال الرابع:

ب- أمامك خريطة العالم الصماء. ادرسها جيدا ثم أجب عن الاسئلة التالية:



- ١- ما نوع التربة في المنطقة المشار إليها بالرقم (٣)؟
 - ٢- ما الرقم الذي يشير الى الدولة المشتهرة بإنتاج وقود أقرص الجلة؟
 - ٣- ظلل باستخدام الرمز القارة التي استخدمت الأسمدة الكيميائية لأول مرة.
 - ٤- ما نوع الزراعة في المنطقة المشار إليها بالرقم (٢)؟
- ج- أمامك شكل لإحدى المنشآت الصناعية . ادرسه جيدا ثم أجب عما يليه من أسئلة:



- ١- إلى ماذا يشير الشكل السابق؟
 - ٢- اذكر اثنين من الصناعات البتروكيمياوية المعتمدة على المواد الناتجة من هذه المنشأة.
-
-

انتهت الاسئلة مع رجائنا للجميع بالنجاح والتفوق

مدرسة ولاية بحدت - مركز مصادر التعلم

مذونة فصل المصادر



سَلَامَةُ عُومَانِ

وَزَارَةُ التَّحْقِيقِ وَالتَّعْلِيمِ

نموذج إجابة امتحان الصف الحادي عشر
للعام الدراسي ١٤٣٥/١٤٣٦ هـ - ٢٠١٤/٢٠١٥ م
الدور الأول - الفصل الدراسي الأول



الدرجة الكلية: (٦٠) درجة

المادة: الجغرافيا الاقتصادية.
تنبيه: نموذج الإجابة في (٤) صفحات.

أولاً: إجابة السؤال الموضوعي:-

الدرجة: (٢٤) درجة		إجابة السؤال الأول		
الصفحة	الدرجة	الإجابة	البديل الصحيح	المفردة
٦٠	٢	الكيميائية.	ج	١
٣٨	٢	الجبل الأخضر.	ج	٢
١٦	٢	أستراليا.	أ	٣
٢٦	٢	الشكل (أ).	أ	٤
٤٩	٢	لاتؤثر سلباً على البيئة.	ج	٥
٢٦-٢٣	٢	الشكل د.	د	٦
٤٣	٢	حيوية.	د	٧
٤٨	٢	الشكل (أ).	أ	٨
٢٧	٢	الشكل (د).	د	٩
١٠	٢	التربة المنجرفة - أشجار الغابات - المياه الجوفية.	ب	١٠
١٥	٢	٥٠٠ ألف.	د	١١
٥٥	٢	الشكل (ب).	ب	١٢
٢٤		المجموع		

يتبع/٢

مدرسة ولاية بدبد - مركز مصادر التعلم

مذونة بكل المصادر

(٢)
تابع نموذج إجابة امتحان مادة الجغرافيا الاقتصادية للصف الحادي عشر
للعام الدراسي ١٤٣٥/١٤٣٦ هـ - ٢٠١٤/٢٠١٥ م
الدور الأول - الفصل الدراسي الأول



إجابة السؤال الثاني - مجموع درجات الأسئلة المقالية ٣٦ = (/) تدل على إجابة أخرى - الدرجة الكلية : (١٢) درجة												
الجزئية	المفردة	الإجابة الصحيحة	الدرجة									
أ	١ (أ)	- التلفاز. - الهاتف. - شبكة المعلومات (الإنترنت). (يكتفى بإجابتين لكل إجابة نصف درجة)	١ ٥٧-٥٦									
	١ (ب)	أسهمت الصناعة في توفير: - الأسمدة. - الآلات الزراعية. - مواد الطاقة. - وسائل النقل الحديثة. (يكتفى بإجابتين لكل إجابة نصف درجة)	١ ٥٤									
	٢	أ- تشريعات بيئية. ب- إدارة سليمة للبيئة. ج- تربية بيئية.	١ ١ ١ ٦٣									
ب	١	أ- استصلاح وتسميد ورش الأرض الزراعية. - النقل والماء والكهرباء. - رواتب العمال. - تكاليف أخرى. (يكتفى بإجابتين لكل إجابة نصف درجة) ب- تجارية. - لأنه يهدف إلى تسويق المنتج الزراعي / لأن كمية المحصول كبيرة / لأن المحصول تم بيعه. (إذا كان اختيار نمط الزراعة خاطيء والتفسير صحيح تعتبر إجابة خاطئة)	١ نصف درجة نصف درجة ٤٦									
	٢	أ- طبيعي (خام الحديد). بشري (رأس المال / المصنع / وسائل النقل / الطائرة / القطار / الشاحنة / السفينة). ب- السفينة. ج- المصنع.	١ ١ ١ ٥٦-٥٤ ٥٦ ٥٦-٥٥									
ج	٢	<table border="1"> <thead> <tr> <th>الإجراء</th> <th>الأثر السلبي</th> <th>الأثر الإيجابي</th> </tr> </thead> <tbody> <tr> <td>إنشاء المصانع على سواحل البحار.</td> <td>أدى إلى تلوث مياه البحار بما تلقىه المصانع من المواد الكيميائية والألياف الصناعية.</td> <td>نقل المواد الخام الأساسية عبر البحار والمحيطات.</td> </tr> <tr> <td>استخدام الماء في المصانع القريبة من الشاطئ.</td> <td>قتل الأسماك والأحياء المائية الأخرى / رفع درجة حرارة مياه البحر المجاورة.</td> <td>استخدام المياه في التبريد.</td> </tr> </tbody> </table> (لكل مفردة نصف درجة)	الإجراء	الأثر السلبي	الأثر الإيجابي	إنشاء المصانع على سواحل البحار.	أدى إلى تلوث مياه البحار بما تلقىه المصانع من المواد الكيميائية والألياف الصناعية.	نقل المواد الخام الأساسية عبر البحار والمحيطات.	استخدام الماء في المصانع القريبة من الشاطئ.	قتل الأسماك والأحياء المائية الأخرى / رفع درجة حرارة مياه البحر المجاورة.	استخدام المياه في التبريد.	٢ ٦٢-٦١
الإجراء	الأثر السلبي	الأثر الإيجابي										
إنشاء المصانع على سواحل البحار.	أدى إلى تلوث مياه البحار بما تلقىه المصانع من المواد الكيميائية والألياف الصناعية.	نقل المواد الخام الأساسية عبر البحار والمحيطات.										
استخدام الماء في المصانع القريبة من الشاطئ.	قتل الأسماك والأحياء المائية الأخرى / رفع درجة حرارة مياه البحر المجاورة.	استخدام المياه في التبريد.										

يتبع/٣

مدرسة ولاية بحدب - مركز مصادر التعلم

مذونة من المصادر

(٣)
تابع نموذج إجابة امتحان مادة الجغرافيا الاقتصادية للصف الحادي عشر
للعام الدراسي ١٤٣٥/١٤٣٦ هـ - ٢٠١٤/٢٠١٥ م
الدور الأول - الفصل الدراسي الأول

تابع ثانياً: إجابة الأسئلة المقالية:-



إجابة السؤال الثالث		ملاحظة:- الرمز (/) يدل على إجابة أخرى صحيحة .		الدرجة الكلية: (١٢) درجة	
الجزئية	المفردة	الإجابة الصحيحة		الدرجة	الصفحة
أ	١	- سرعة هبوب الرياح. - قلة أشهر هبوب الرياح.		١	٢٤
	٢	- رمز المنطقة الأكبر جدوى (ج). - رمز المنطقة الأقل جدوى (أ).		١	٢٤
ب	١	نوع الطاقة	السليبات	٢	٢٧-٢٥
		الطاقة الشمسية	بحاجة إلى مساحة واسعة.		
		المد والجزر	تدمير الرياح للسود.		
		الفحم	تلويث البيئة.		
		الطاقة المائية	تدمير الحياة البرية خلف السدود.		
(لكل مفردة نصف درجة)					
ب	٢	- خطورة النفايات الناتجة عن النقل. - الحوادث السابقة للمحطات النووية . - التسرب الإشعاعي. - المخاطر الطبيعية (التسونامي -الزلازل). - التكلفة العالية.		١	٣١-٣٠
		(يكتفى بإجابتين لكل إجابة نصف درجة)			
ج	١	أ-البلاستيك. ب-المحددات البيولوجية / المقترسات / الممرضات/ أنواع من البكتيريا / الفيروسات .		١	١٩ ٢٠
		(لكل مفردة نصف درجة)			
ج	٢			٣	٣٧
		(لكل مفردة درجة)			
ج	٣	أ- حرارة الأرض. ب- زيادة قدرة الأرض على امتصاص الماء. تحليل المادة العضوية. تخليص الأرض من الأعشاب. تسهيل عملية اختراق الجذور والتعمق في التربة. (يكتفى باثنين لكل مفردة نصف درجة)		١	٤٧
		(لكل مفردة نصف درجة)			

يتبع / ٤

(٤)
تابع نموذج إجابة امتحان مادة الجغرافيا الاقتصادية للصف الحادي عشر
للعام الدراسي ١٤٣٥/١٤٣٦ هـ - ٢٠١٤/٢٠١٥ م
الدور الأول - الفصل الدراسي الأول



تابع ثانياً: إجابة الأسئلة المقالية:-

إجابة السؤال الرابع: ملاحظة:- الرمز (/) يدل على إجابة أخرى صحيحة . الدرجة الكلية: (١٢) درجة				
الجزئية	المفردة	الإجابة الصحيحة	الدرجة	رقم الصفحة
أ	١	أ-التوزيع الجغرافي. ب- عضوي. ج-استمراريته. د- غير متجدد.	٢	٩
	(لكل مفردة نصف درجة)			
	٢	أ-لأن التربة التي قام بدراستها هي تربة وادي / منقولة عن طريق المياه. ب- ١- لونها أحمر. - تربة طينية رملية. ٢- تحتوي على كلوريد كالسيوم. تحتوي على صوديوم.	١	١٦
	١	ج- لأنها تتميز بخصوبتها وتهويتها وقدرتها على التخلص من المياه الزائدة عن حاجتها.	١	١٧
ب	١	- صحراوية.	١	٣٩
	٢	- (٥).	١	٣٤
	٣	- تظليل قارة أوروبا.	١	٤٩
	٤	- الواسعة.	١	٤٢
ج	١	- مصفاة تكرير النفط / تكرير النفط / مصفاة / مصفاة نפט.	١	٢٨
	٢	- البلاستيك - الأسمدة الكيماوية - الأدوية. (يكتفى بإثنين لكل مفردة نصف درجة)	١	٢٨

نهاية نموذج الإجابة

مدرسة ولاية بديت - مركز مصادر التعلم

مذونة من المصادر