



سلطنة عمان
وزارة التربية والتعليم
المديرية العامة للتربية والتعليم لمحافظة الداخلية
امتحان الصف : السادس

الدور : الأول

الفصل الدراسي : الأول

العام الدراسي : ٢٠١٤/٢٠١٥م

- المادة: الدراسات الاجتماعية • تنبيه: • الأسئلة في (٦) صفحات
• زمن الاجابة: ساعة ونصف • الاجابة في الورقة نفسها.

...../الصف

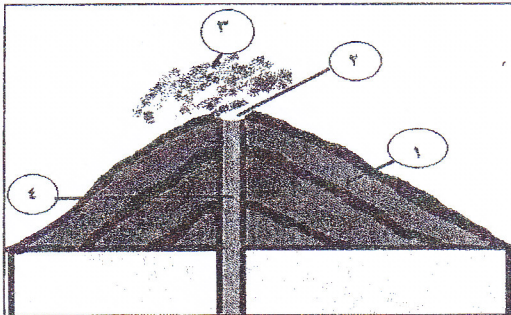
اسم الطالب/.....

السؤال الأول: ضع دائرة حول رمز الاجابة الصحيحة من بين البدائل المعطاة لكل عبارة فيما يلي:

(١) المكان الذي يبدأ عنده النهر:

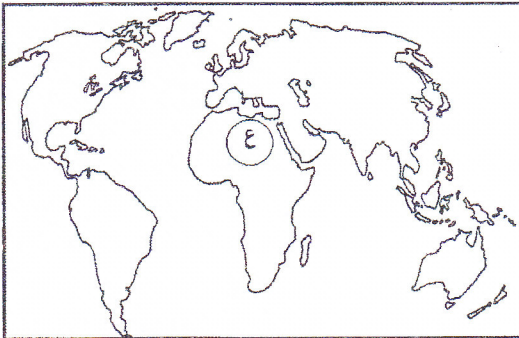
- أ- المصب ب- المنبع ج- الفاصل المائي د- المجرى الرئيسي

(٢) الرقم الذي يشير الى قسبة البركان في الشكل المقابل:



- أ- ١ ب- ٢
ج- ٣ د- ٤

(٣) أكبر صحاري العالم المشار إليها بالرمز (ع):



- أ- الصحراء الكبرى ب- الصحراء العربية
ج- صحراء اتكاما د- صحراء كلهاري

يتبع ٢

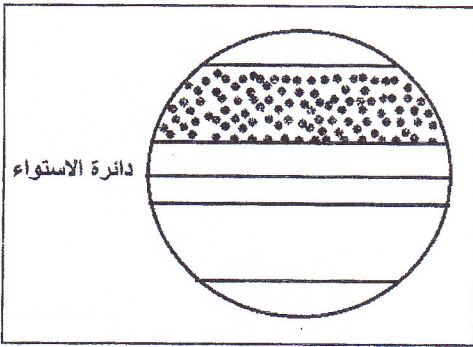
تابع السؤال الأول:

٤) عاصمة الدولة الفاطمية :
 أ- قرطبة ب- تاهرت ج- القيروان د- القاهرة

٥) مؤسس المذهب الإباضي:

أ- جابر بن زيد ب- بشير بن المنذر
 ج- محمد بن المعلا د- محبوب بن الرحيل

٦) المنطقة الحرارية المظللة في الشكل المقابل :



أ- المعتدلة الجنوبية ب- المعتدلة الشمالية
 ج- الباردة الجنوبية د- الباردة الشمالية

٧) إذا علمت أن نسبة اليابس في الكرة الأرضية تشكل ٢٩% فإن نسبة الماء تشكل:

أ- ٧١% ب- ٧٣% ج- ٧٥% د- ٧٧%

٨) الغاز الذي يمثل أعلى نسبة في الغلاف الجوي:

أ- الأرجون ب- الأوكسجين ج- الهيدروجين د- النيتروجين



الدرجة

يتبع ٣

السؤال الثاني:

أولاً: عرّف ما يأتي:

(أ) الغلاف الصخري

.....

(ب) المد والجزر.

.....

(ج) التكاثر.

.....

ثانياً: علّل ما يأتي:

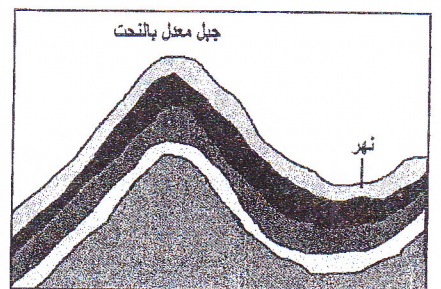
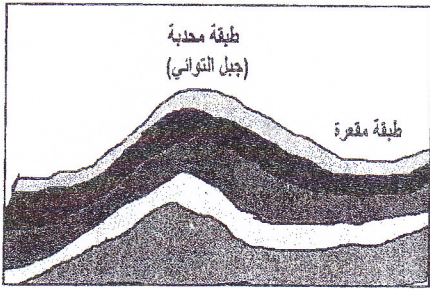
(أ) اعتماد كثير من السكان على تنبؤات الطقس والنشرة الجوية.

.....

(ب) ازدهار تجارة الدولة الرسمية.

.....

ثالثاً: رتب مراحل تكون الجبال الالتوائية بوضع رقم اسفل كل صورة.



()

()

()

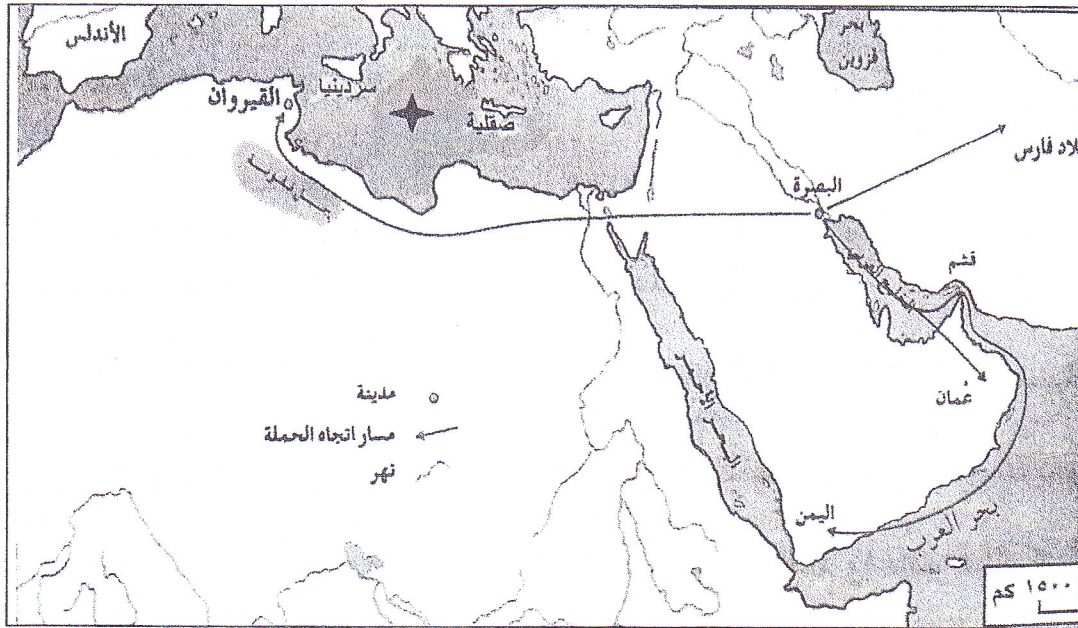
٨

الدرجة

يتبع ٤

السؤال الثالث :


اولاً: انظر إلى خريطة الوطن العربي التي أمامك ثم اجب عن الأسئلة التي تليها:



(أ) ضع دائرة حول المدينة التي وصلها حملة العلم للمذهب الإباضي غرباً .

(ب) استخرج ما يأتي :

- ١- اسم المدينة التي انطلقت منها حملة العلم للمذهب الإباضي
- ٢- جزيرة شملتها الدولة الفاطمية.

(ج) سمّ المسطح المائي المشار إليه بالرمز  بالرمز

ثانياً: اذكر اثنين لكلا مما يأتي:

(أ) الأشكال الأرضية الناجمة عن النحت في المناطق الساحلية.

- ١-
- ٢-

(ب) مصادر بيانات الطقس.

- ١-
- ٢-

يتبع ٥

تابع السؤال الثالث:

ثالثاً: امامك مجموعة من الرموز المستخدمة في النشرة الجوية وخريطة الطقس، اكتب اسفل كل رمز ما يعبر عنه.



الدرجة

السؤال الرابع:

اولاً: انسب ما يأتي حسب الجدول :

- تتكون فوق البحار والمحيطات المعتدلة.
- تتكون فوق المحيطات المدارية الدافئة.
- تحدث في فصل الصيف وبداية الخريف.
- تحدث في فصل الشتاء.

الأعاصير	المنخفضات الجوية

ثانياً: أ) اذا شعرت بحدوث هزة أرضية وأنت داخل غرفة الصف، ما التدابير التي سوف تتخذها لتلافي خطر الهزة؟

.....

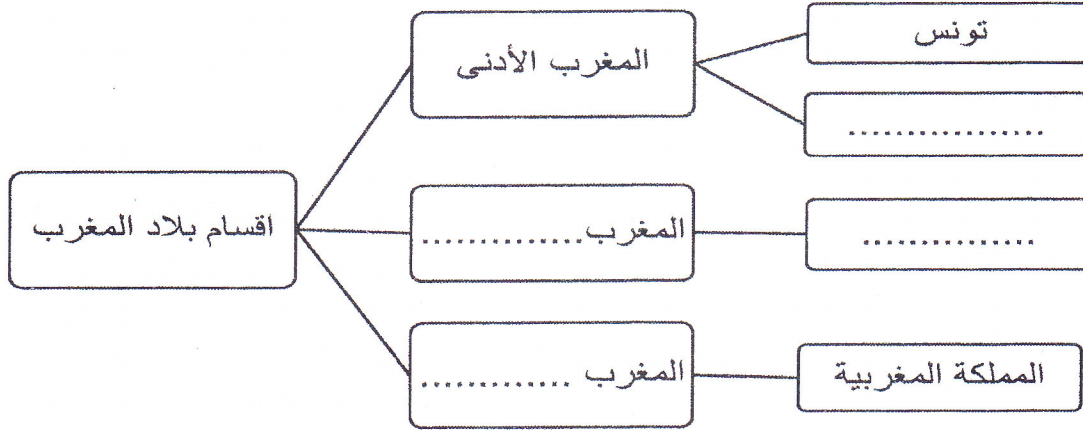
.....

ب) اذكر نتيجة واحدة ترتبت على ضعف الامامة في عمان في عهد الامام عزان بن تميم الخروصي.

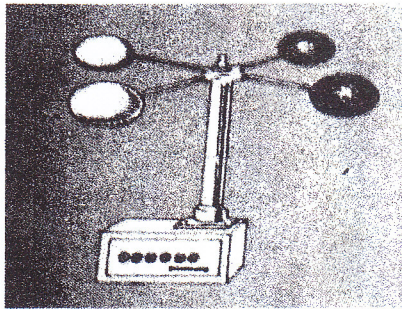
يتبع

تابع السؤال الرابع:

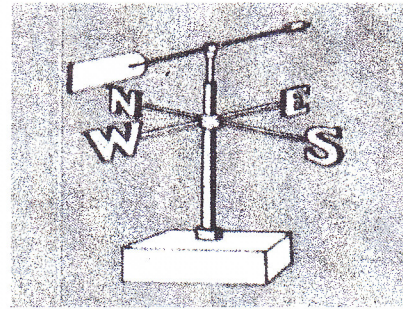
ج) اكمل المخطط التالي:



ثالثاً: قارن بين الصورتين حسب الجدول الذي أمامك:



الصورة (٢)



الصورة (١)

وجه المقارنة	الصورة (١)	الصورة (٢)
اسم الجهاز		
استخدامه		

انتهت الأسئلة مع تمنياتنا لكم بالنجاح

نموذج الإجابة لمادة الدراسات الاجتماعية الصف
السادس الفصل الأول الدور الأول لعام (٢٠١٤/٢٠١٥)

الأسئلة الموضوعية (نمط الاختيار من متعدد):

اجابة السؤال الأول : ١٦ درجة لكل مفردة درجتان

المفردة	رمز الاجابة الصحيحة	البديل الصحيح	الدرجة	الصفحة
١	ب	المنبع	٢	٣٠
٢	د	٤	٢	٢١
٣	أ	الصحراء الكبرى	٢	٤٥
٤	د	القاهرة	٢	٨٦
٥	أ	جابر بن زيد	٢	٦٣
٦	ب	المعتدلة الشمالية	٢	١٠٣
٧	أ	٧١%	٢	١٢٨
٨	د	النيتروجين	٢	٩٤
المجموع			١٦ درجة	

نموذج اجابة

الأسئلة المقالية : اجابة السؤال الثاني ٨ درجات

الصفحة	الدرجة	الإجابة الصحيحة	المفردة	الجزئية
١٥	١	الصخور المكونة للقشرة الأرضية ويحتوي على موارد طبيعية هامة كالمعادن والنفط والمياه.	أ	اولا
٢٩	١	حركة ارتفاع وانخفاض منسوب مياه البحار والمحيطات مرتين في اليوم بسبب جذب كل من القمر والشمس للأرض.	ب	
١١١	١	تحول بخار الماء في الجو إلى قطرات مائية.	ج	
١٢١	١	لان رداءة الطقس أحيانا تسبب حدوث اختناقات مرورية/ والفيضانات /تتعطل وسائل النقل/تتعطل الأعمال	أ	ثانيا
٧٩	١	- الأمن والاستقرار الذي نشرته الدولة الرسمية في بلاد المغرب. - علاقاتها الطيبة بالدولة المجاورة. - الموقع الجغرافي المتوسط للدولة الرسمية.	ب	
٢٨-٢٧	٣			
المجموع				ثالثا
٨ درجات				

نموذج اجابة

الأسئلة المقالية : اجابة السؤال الثالث ٨ درجات

الصفحة	الدرجة	الأجابة الصحيحة	المفردة	الجزئية
٦٥	١			اولا
٦٦-٦٥	١		ب	
٨٥	١		ب	
٦٥	١		ج	
٤١-٤٠	١	١- الحروف ٢- الكهف ٣- القنطرة أو القوس ٤- المسلة	أ	ثانيا
١٢٣	١	١- مؤسسات حكومية: المديرية العامة للطيران المدني/محطة الأرصاد الجوية ٢- السفن ٣- الطائرات ٤- البالونات ٥- الأقمار الاصطناعية	ب	
١٢٥	٢			ثالثا
٨ درجات				المجموع

اجابة السؤال الرابع:

الصفحة	الدرجة	الاجابة الصحيحة	المفردة	الجزئية										
١١٥ ١١٧	٢ كل جزئية نصف درجة	<table border="1"> <tr> <td>الأعاصير</td> <td>المنخفضات الجوية</td> </tr> <tr> <td>تتكون فوق المحيطات المدارية الدافئة</td> <td>تتكون فوق البحار والمحيطات المعتدلة</td> </tr> <tr> <td>تحدث في فصل الصيف وبداية الخريف.</td> <td>تحدث في فصل الشتاء.</td> </tr> </table>	الأعاصير	المنخفضات الجوية	تتكون فوق المحيطات المدارية الدافئة	تتكون فوق البحار والمحيطات المعتدلة	تحدث في فصل الصيف وبداية الخريف.	تحدث في فصل الشتاء.		اولا				
الأعاصير	المنخفضات الجوية													
تتكون فوق المحيطات المدارية الدافئة	تتكون فوق البحار والمحيطات المعتدلة													
تحدث في فصل الصيف وبداية الخريف.	تحدث في فصل الشتاء.													
-١٨ ١٩	١ أي اجابة تفيد المعنى	-الابتعاد عن النوافذ أو لوحات الحائط أختبئ أسفل الاثاث القوي كالطاولة	أ	ثانيا										
٧٠	١	اختلاف القبائل العمانية فيما بينها/ تمكن الدولة العباسية من اعادة سيطرتها على عمان/ ارسال جيش الى عمان بقيادة محمد بن بور	ب											
٧١	٢	<table border="1"> <tr> <td rowspan="3">اقسام بلاد المغرب</td> <td>المغرب الأدنى</td> <td>تونس</td> </tr> <tr> <td>المغرب الأوسط</td> <td>ليبيا</td> </tr> <tr> <td>المغرب الأقصى</td> <td>الجزائر</td> </tr> <tr> <td></td> <td></td> <td>المملكة المغربية</td> </tr> </table>	اقسام بلاد المغرب	المغرب الأدنى	تونس	المغرب الأوسط	ليبيا	المغرب الأقصى	الجزائر			المملكة المغربية	ج	ثانيا
اقسام بلاد المغرب	المغرب الأدنى	تونس												
	المغرب الأوسط	ليبيا												
	المغرب الأقصى	الجزائر												
		المملكة المغربية												
١٠٦	٢	<table border="1"> <tr> <td>الصورة (٢)</td> <td>الصورة (١)</td> <td>وجه المقارنة</td> </tr> <tr> <td>الأنيمومتر</td> <td>دوارة الرياح</td> <td>اسم الجهاز</td> </tr> <tr> <td>قياس سرعة الرياح</td> <td>تحديد اتجاه الرياح</td> <td>استخدامه</td> </tr> </table>	الصورة (٢)	الصورة (١)	وجه المقارنة	الأنيمومتر	دوارة الرياح	اسم الجهاز	قياس سرعة الرياح	تحديد اتجاه الرياح	استخدامه		ثالثا	
الصورة (٢)	الصورة (١)	وجه المقارنة												
الأنيمومتر	دوارة الرياح	اسم الجهاز												
قياس سرعة الرياح	تحديد اتجاه الرياح	استخدامه												
	٨ درجات			المجموع										

نموذج اجابة

مدرسة ولاية بوجد - مركز مصادر التعلم

مكونة من المصادر