



سلطنة عمان  
وزارة التربية والتعليم  
المديرية العامة للتربية والتعليم لمحافظة الداخلية  
امتحان الصف: السابع

الدور : الأول

الفصل الدراسي : الأول

العام الدراسي : ٢٠١٤/٢٠١٥م

تنبيه: الأسئلة في (٥) صفحة

المادة : الدراسات الاجتماعية

الإجابة في الورقة نفسها

زمن الإجابة : ساعة ونصف

الصف:

الاسم :

السؤال الأول : ضع دائرة حول رمز الإجابة الصحيحة من بين البدائل المعطاة:

١- التسمية التي عرفت بها مجان في النصوص الآشورية :-

أ- بلاد الفضة      ب- سفن الناس      ج- أرض النحاس      د- أرض الملاحين

٢- الحضارة التي يشير إليها السهم في الخريطة :-

أ- دلمون      ب- مجان      ج- الفراعنة      د- السند

٣- العام الميلادي الذي أجري فيه أول تعداد شامل للسكان في السلطنة :-

أ- ١٩٩٠      ب- ١٩٩١      ج- ١٩٩٢      د- ١٩٩٣

٤- استغلال المال الزائد عن الحاجة لإقامة مشاريع تزيد من الدخل :-

أ- الدخل      ب- الادخار      ج- الانفاق      د- الاستثمار

٥- جميع ما يلي من الممتلكات العامة في الدولة ما عدا :-

أ- مدرسة حكومية      ب- المستشفى السلطاني      ج- منزل خاص      د- منطقة الرسيل الصناعية

مدرسة ولاية بحدب - مركز مصادر التعلم

مدرسة ولاية بحدب

الدور : الأول

تابع امتحان الصف السابع  
الفصل الدراسي : الأول

العام الدراسي : ٢٠١٤/٢٠١٥ م

المحافظة	عدد الذكور	عدد الاناث	نسبة النوع
مسقط	٢٠٩٠٦٢	١٩٧٩٤٤	١٥٠٠٦
الباطنة	٣١٣٤٠٤	٣٠٧٥٤٦	١٠١٠٩
مسندم	١١٤٠٨	١٠٤٩٠	١٠٨٠٧
الداخلية	١٣٤٤٤٨	١٣٤٦٢١	?

٦- تبلغ نسبة النوع في محافظة الداخلية :-

أ- ٩٦,٨      ب- ٩٧,٨      ج- ٩٨,٨      د- ٩٩,٨

٧- نوع الهجرة التي يمثلها (سفر محمد إلى الولايات المتحدة الامريكية لإكمال دراسته الجامعية) :

أ- الداخلية المؤقتة      ب- الخارجية الدائمة      ج- الخارجية المؤقتة      د- الداخلية الدائمة

٨- أكثر اسباب الحوادث المرورية في سلطنة عمان :

أ- السرعة      ب- الإهمال      ج- التجاوز      د- سوء التصرف



السؤال الثاني :- اجب عن الاسئلة التالية :  
أولاً :- أ- عرف مايلي :

١- المقايضة :

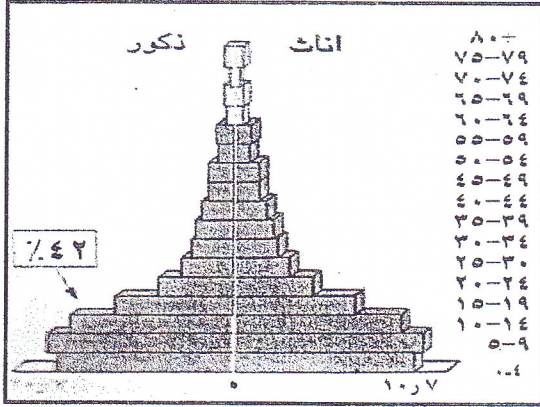
٢- أمد الحياة

ب- اذكر اثنين من مصادر دراسة السكان .

ثانياً :- قارن بين دولة معين ودولة قتبان في الجدول التالي :

وجه المقارنة	دولة معين	دولة قتبان
مكان قيامها		
عاصمتها		

ثالثا : - ادرس الهرم السكاني لسلطنة عمان ثم اجب عن الأسئلة التي تليه :



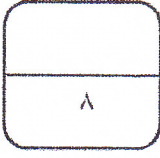
١- ما نوع الهرم السكاني لسلطنة عمان ؟

.....

٢- ما الفئة العمرية السائدة في هذا الهرم ؟ وما نتائج ذلك على المجتمع ؟

.....

.....



السؤال الثالث :-

أولا :- ادرس الشكل الذي أمامك والمتعلق بشجرة اللبان ثم اجب عما يليه من أسئلة :-



١- ما اسم العملية التي يقوم بها الرجل في الصورة ؟

.....

٢- ما اسم الآلة التي تستخدم في هذه العملية ؟

.....

٣- اكتب استخداما واحدا لهذه الشجرة قديما

.....

ثانيا :- اقرأ النص التالي ومن ثم اجب عن الأسئلة التي تليه:

الدور : الأول

تابع امتحان الصف السابع  
الفصل الدراسي : الأول

العام الدراسي : ٢٠١٤/٢٠١٥ م

( يجب أن نعلم الأجيال معنى الادخار ومعنى ان ننفق وفق حاجتنا ، فالإنسان الذي يكسب ريالين على سبيل المثال لو ادخر منها مائة بيسة فان مائة فوق مائة تصبح ريالاً والريال يتحول الى ريالين وهكذا )  
١- من قائل النص ؟

٢- .....

٢- ما الفكرة التي تستنتجها من النص السابق ؟

.....

ثالثاً:- اجب عن الأسئلة التالية

١- احسب الكثافة السكانية لقارة استراليا اذا علمت أن عدد سكان القارة يساوي ٣١٣٠٧١١٥٩ نسمة وأن مساحة القارة تساوي ٨٩٣٥٠٠٠ كيلومتر مربع . مع كتابة القانون

.....

.....

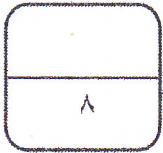
٢- كيف يتصرف سائق المركبة الجيد في المواقف التالية :

أ- يسير بالقرب من مدرسة اثناء خروج الطلبة

.....

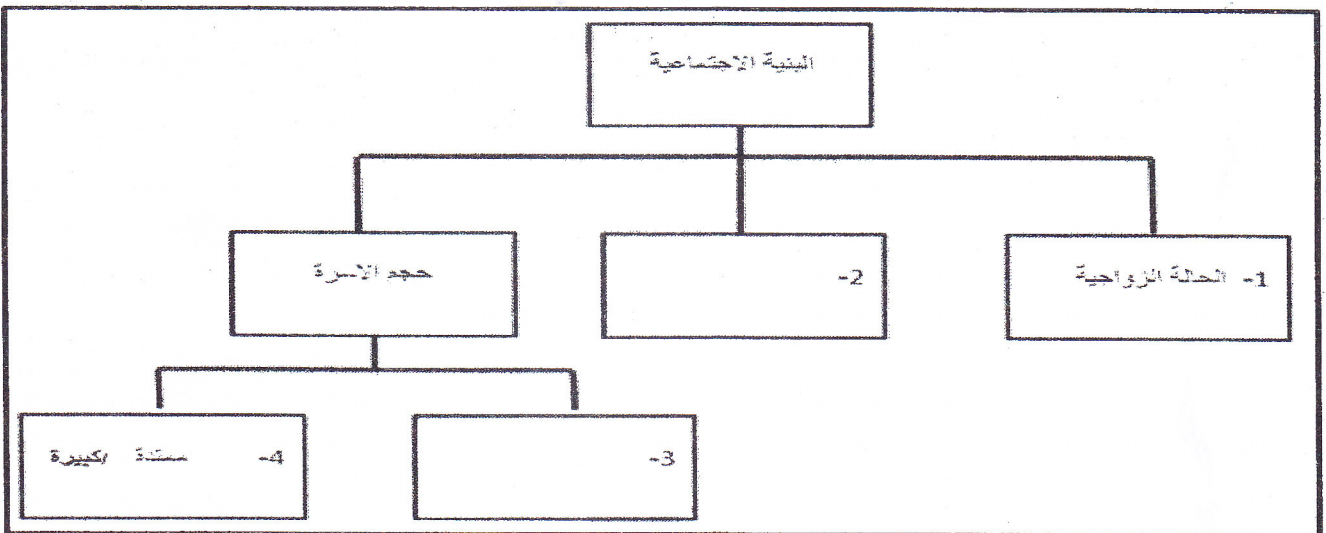
ب- يسير وخلفه سيارة اسعاف

.....



السؤال الرابع :

أولاً :- اكتب البيانات الناقصة في الشكل التالي :-



الدور : الأول

تابع امتحان الصف السابع  
الفصل الدراسي : الأول

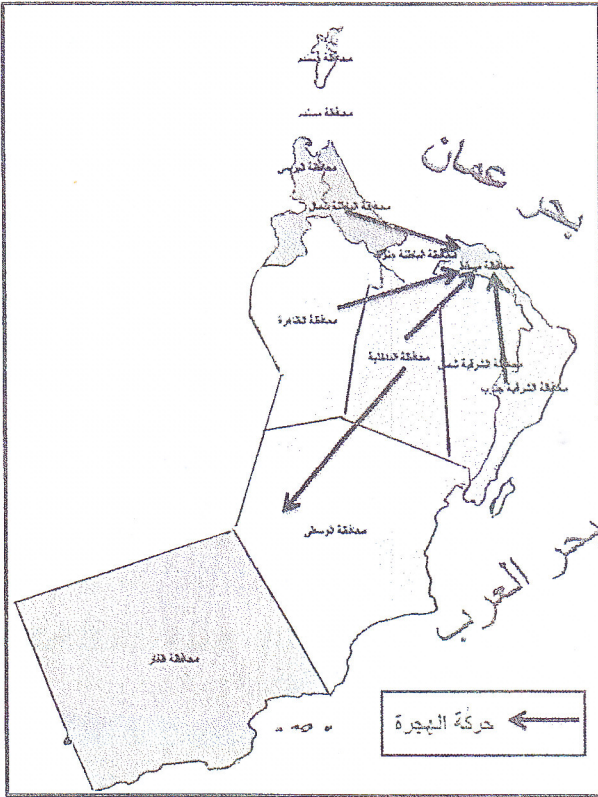
العام الدراسي : ٢٠١٤/٢٠١٥ م

ثانياً : صنف المكتشفات التاريخية التالية حسب العصور التي اكتشفت فيها :

( استخدام الطوب في البناء - ظهور المدن التجارية - اختفاء نظام المقايضة - استخدام الكتابة )

العصر	العصر البرونزي	العصر الحديدي
المكتشفات التاريخية	١.....	٢.....
	.....	.....

ثالثاً : استعن بخريطة سلطنة عمان في الإجابة على الاسئلة التالية :




١- استخراج من الخريطة ما يلي :

أ- اسم المحافظة التي تستقبل أكبر عدد من المهاجرين العمانيين

ب- اسم محافظتين يهاجر منها السكان في السلطنة

٢- فسّر هجرة بعض سكان محافظة الداخلية الى محافظة الوسطى

٣- حدد على الخريطة باستخدام الرمز التالي  مدينة صلاة

نموذج اجابة امتحان مادة الدراسات الاجتماعية للصف السابع

للعام الدراسي ٢٠١٤/٢٠١٥ م

الفصل الدراسي الأول - الدور الأول

السؤال	الجزئية	المفردة	الوحدة	الدرس	رقم الاجابة	الاجابة	الصفحة	الدرجة
الأول		١	١	٢	ب	سفن الناس	٢٥	٢
		٢	١	٣	أ	دلمون	٢٩	٢
		٣	٢	١	د	١٩٩٣	٤٠	٢
		٤	٣	١	د	الاستثمار	٧٣	٢
		٥	٣	٣	ج	منزل خاص	٨٢-٨٧	٢
		٦	٢	٢	أ	٩٩،٨	٤٦	٢
		٧	٢	٣	ج	خارجية مؤقتة	٥٤	٢
		٨	٣	٤	ب	السرعة	٩١	٢
		المجموع				١٦		

نموذج اجابة

السؤال	الجزئية	المفردة	الوحدة	الدرس	الاجابة	الصفحة	الدرجة	
الثاني	اولا	أ ١	١	١	من أساليب البيع والشراء لا تستخدم فيه النقود	١٦	درجة	
		٢	٢	٣	عدد السنوات التي يعيشها الفرد الواحد	٥٣	درجة	
		ب	٢	١	التعداد- الاحصاءات الحيوية- سجلات الهجرة	٤٠- ٤١	درجة	
	ثانيا		١	٣	<u>دولة معين</u> مكان قيامها : وادي الجوف عاصمتها : قرناو <u>دولة قتيان</u> : مكان قيامها : وادي بيحان عاصمتها : تمنع	٣٥- ٣٦	درجتان لكل جزئية نصف درجة	
	ثالثا	١	٢	٢	المهرم ذو القاعدة العريضة	٤٦	درجة	
		٢	٢	٢	نسبة صغار السن ١-زيادة نسبة الإعالة ٢-الضغط على الخدمات الاجتماعية والاقتصادية ٣- نقل الفئمة المنتجة	٤٦- ٤٧	درجة درجة يكتفى بذكر نتيجة واحدة	
المجموع							٨ درجات	

السؤال	الجزئية	المفردة	الوحدة	الدرس	الاجابة	الصفحة	الدرجة
الثالث	أولا	١	١	٢	التوقيع/ الجرح/ ضرب الشجرة	٢٨	نصف درجة
		٢	١	٢	المنقف	٢٧	نصف درجة
		٣	١	٢	تحنيط جثث الموتى تبخير جثث الموتى والكنائس مطهر وعلاج لأمراض الربو والسعال المزمن....	٢٨	درجة
ثانيا		١	٣	١	صاحب الجلالة السلطان قابوس	٧٥	درجة
		٢	٣	١	أهمية الادخار وتقليل الاستهلاك فالادخار يساعد الأسرة والفرد عند الضرورة وكذلك في المشروعات التجارية والصناعية المختلفة التي تزيد من الدخل أوما يفيد المعنى	٧٣	درجة
ثالثا		١	٢	٤	عدد السكان الكثافة السكانية = المساحة 313071159 = 8935000 35 نسمة / كم2 =	٥٨	درجتان كتابة القانون درجة والتطبيق درجة



درجة	٩٠	يبطأ من سرعة المركبة أوما يفيد المعنى	٢	٣	٢	أ	
درجة	٩٠	يفسح لها الطريق للمرور أو ما يفيد المعنى				ب	
المجموع الكلي							٨ درجات
السؤال	الجزئية	المفردة	الوحدة	الدرس	الاجابة	الصفحة	الدرجة
الرابع	أولا	١	٢	٢	٢- المستوى التعليمي ٣- صغيرة	٤٩	درجتان لكل جزئية درجة
	ثانيا	١	١	١	<u>العصر البرونزي</u> ١- استخدام الطوب في البناء ٢- استخدام الكتابة <u>العصر الحديدي</u> ١- ظهور المدن التجارية ٢- اختفاء نظام المقايضة	١٦	درجتان لكل جزئية نصف درجة
	ثالثا	١	٢	٣	مسقط	٥٦	درجة
	ب		٢	٣	الباطنة - الداخلية- الشرقية- الظاهرة	٥٦	درجة
		٢	٢	٣	لتوافر فرص العمل/ العمل بحقول النفط الموجودة بمحافظة الوسطى	٥٥	درجة

نموذج اجابة

مدرسة ولاية بديت - مركز مصادر التعلم

مدونة مصادر

درجة نصف درجة لاستخدام الرمز ونصف درجة للتحديد الصحيح	٥٦		٣		
		٨ درجات	المجموع		
		٤٠ درجة	المجموع الكلي		

- انتهى النموذج -

نموذج اجابة